



COLEGIO LAFONTAINE

EDUCAR PARA TRIUNFAR
CICLO ESCOLAR 2016-2017

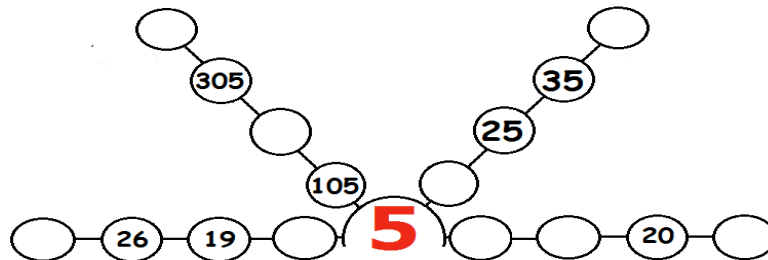
PRIMARIA

Guía de Matemáticas Segundo Grado– Examen 2º Bimestre

Nombre: _____ grado y grupo: _____

1a la 4.- Escribe los números que faltan para completar cada serie.

(valor 4 puntos)



5 a la 7.- Colorea los números que se indican. (valor 3 puntos)

"Son mayores que 34, pero menores que 58 y termina en 6"

46	26	6	64	56	66	36
----	----	---	----	----	----	----

8 a la 11.- Resuelve usando sólo el cálculo mental. (valor 4 puntos)


$$80 - 30 = \underline{\quad} \quad 52 + 26 = \underline{\quad} \quad 42 - 12 = \underline{\quad} \quad 24 + 48 = \underline{\quad}$$

12.- Escribe el número que le hace falta a cada tarjeta para que al sumarlás den como resultado el número indicado. (valor 1 punto)

$$\square + \square + \square + \square + \boxed{30} + \square = 62$$

13 y 14.- Resuelve los siguientes problemas. (valor 2 puntos)



En una canasta había 78 huevos y se han tomado 26 para el desayuno. ¿Cuántos huevos quedaron en la canasta? _____ huevos.





Javier le regaló 14 canicas a su hermano. ¿Cuántas canicas le quedaron si tenía 57?

_____ canicas.

15 a la 18.- Une las figuras con la forma de sus lados. (valor 4 puntos)



Rectas
Curvas
Curvas y rectas



19 Y 20.- Resuelve las adiciones descomponiendo los sumandos en decenas y unidades. Observa el ejemplo. (valor 2 puntos)

$$38 + 54 = 30 + 50 + 8 + 4 = 92$$

$$25 + 43 =$$

$$67 + 16 =$$

