



COLEGIO LAFONTAINE

EDUCAR PARA TRIUNFAR
PRIMARIA
CICLO ESCOLAR 2016-2017

Guía de Ciencias Naturales.
Segundo Grado – Examen 2º Bimestre.

Nombre: _____ **Grado y grupo:** _____

UNE LA RESPUESTA CORRECTA CON LÍNEAS DE COLORES (7 aciertos)

Las plantas y animales son

Llanura

Luna

Elaboran su propio alimento.

Seres vivos

Es una estrella con luz propia.

Sol

No tiene luz propia.

Lagos

Terreno plano donde se practica la agricultura.


Montaña

Es la elevación del terreno.


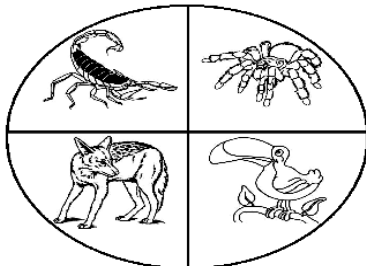
Plantas

Agua que está en lugares hundidos.

8 a la 10.- Escribe los tres estados físicos del agua. (valor 3 puntos)



11 y 12.- De acuerdo al lugar en donde viven, colorea el animal que no pertenezca al grupo. (valor 2 puntos)



13 a la 18.- Colorea el recuadro con color azul si es animal acuático y con color café si es terrestre. (valor 6 puntos)

DELFIN	PERICO	BALLENA	SERPIENTE	CABALLO	RANA

19 y 20.- Completa los enunciados. (valor 2 puntos)



El _____ de _____ de 1910, Francisco I. Madero llamó a todos los mexicanos a luchar para mejorar la situación del país.



Derecho de tener tierras para trabajarlas, fue algo que pedía _____ en la Revolución Mexicana de 1910.

21 – 26 Contesta los enunciados siguientes con apoyo de las palabras del recuadro:

(6 puntos)

<i>celestes</i> <i>tierra</i> <i>luz</i> <i>sol</i> <i>celestes</i> <i>cuerpos</i> <i>pequeños puntos</i>

- 1) La luna es un cuerpo _____ que gira alrededor de la _____.
- 2) No tiene _____ es iluminada por el _____
- 3) Las estrellas son _____ y por estar alejadas de la tierra se ven _____.

28 - 29 Contesta en las líneas lo que se te pide a continuación:

(11 puntos)

- 1) ¿A qué se le conoce como movimiento de rotación?

- 2) Explica brevemente que es el movimiento de traslación

- 3)Escribe en orden los nombres de los planetas
